




Restas marinas


Cuenta los peces, luego tacha el número de criaturas que necesitas restar. ¿Cuántas quedan a la derecha. ¡Colorea las de abajo!


 $4 - 2 = \underline{2}$

 $4 - 3 = \underline{\quad}$

 $7 - 1 = \underline{\quad}$

 $3 - 2 = \underline{\quad}$

 $8 - 5 = \underline{\quad}$

 $10 - 7 = \underline{\quad}$

